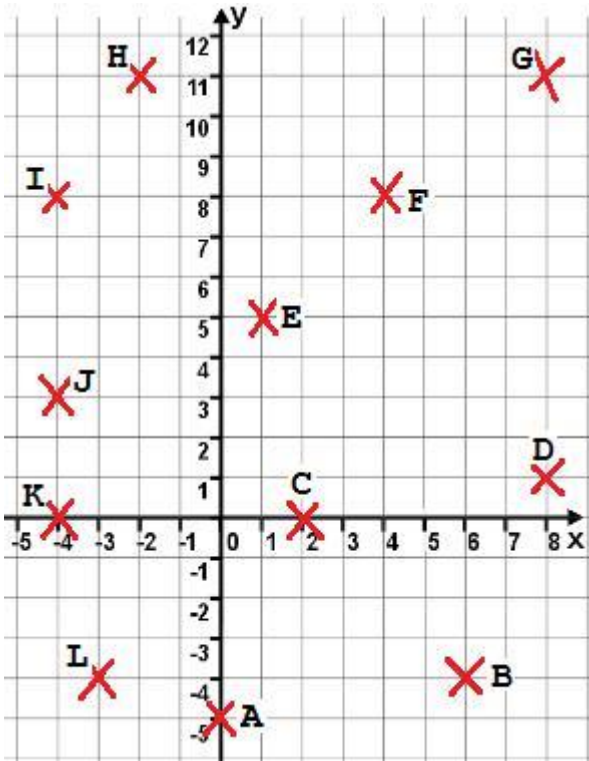


Klapptest – Koordinatensystem 1

Falte das Blatt entlang der Linie und berechne.

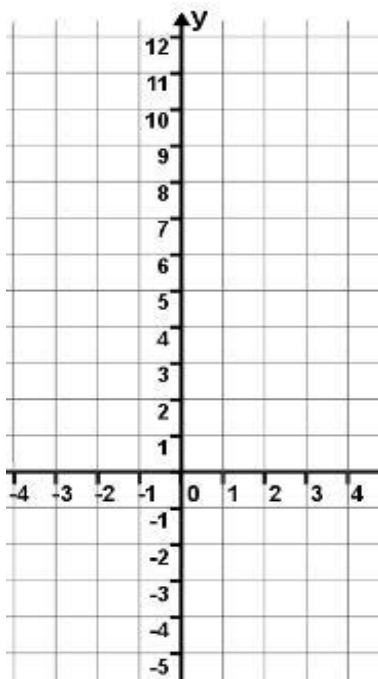
1. Aufgabe: Schreibe die Koordinaten auf.



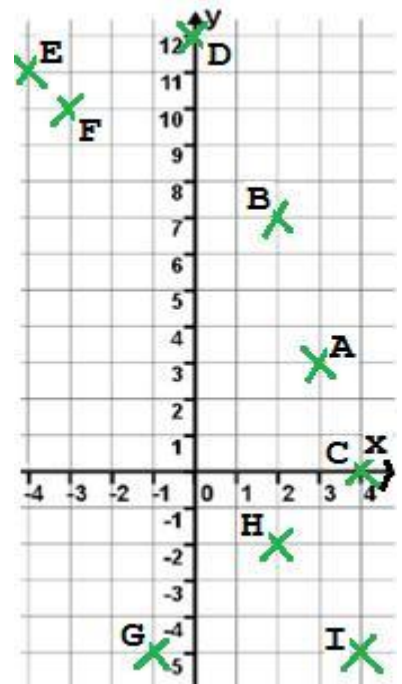
A (___/___)
 B (___/___)
 C (___/___)
 D (___/___)
 E (___/___)
 F (___/___)
 G (___/___)
 H (___/___)
 I (___/___)
 J (___/___)
 K (___/___)
 L (___/___)

A (0/-5)
 B (6/-4)
 C (2/0)
 D (8/1)
 E (1/5)
 F (4/8)
 G (8/11)
 H (-2/11)
 I (-4/8)
 J (-4/3)
 K (-4/0)
 L (-3/-4)

2. Aufgabe: Trage die Punkte ein.



A (3/3)
 B (2/7)
 C (4/0)
 D (0/12)
 E (-4/11)
 F (-3/10)
 G (-1/-5)
 H (2/-2)
 I (4/-5)



Ergebnis:

 /21 P.